


Il y a €




Il y a €

Combien y a-t-il d'argent dans les 2 porte-monnaies mis ensemble ?




Il y a €



Il y a €

Combien y a-t-il d'argent dans les 2 porte-monnaies mis ensemble ?



Il y a €




Il y a €

Combien y a-t-il d'argent dans les 2 porte-monnaies mis ensemble ?



Il y a €



Il y a €

Combien y a-t-il d'argent dans les 2 porte-monnaies mis ensemble ?