


addition de 2 nombres de 2 chiffres

CP 005




1c

Combien Paul et Ninon peuvent-ils acheter de bonbons ?



addition de 2 nombres de 2 chiffres

CP 005




1c

Combien Paul et Ninon peuvent-ils acheter de bonbons ?



addition de 2 nombres de 2 chiffres

CP 005




1c

Combien Paul et Ninon peuvent-ils acheter de bonbons ?



addition de 2 nombres de 2 chiffres

CP 005



1c

Combien Paul et Ninon peuvent-ils acheter de bonbons ?

