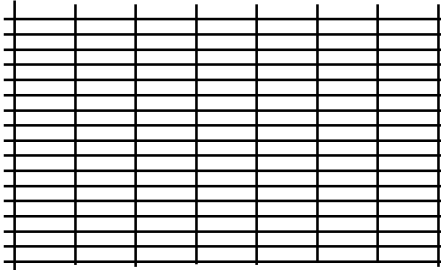


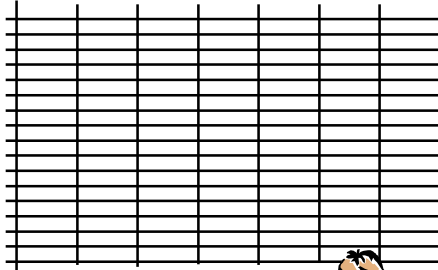
je calcule :
 $23 - 9 = \dots$

puis je fais la preuve



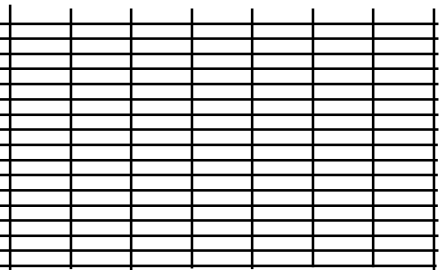
je calcule :
 $42 - 28 = \dots$

puis je fais la preuve



je calcule :
 $53 - 6 = \dots$

puis je fais la preuve



je calcule :
 $85 - 78 = \dots$

puis je fais la preuve

