

Imagine la taille des objets et animaux suivants. Une seule mesure est possible, laquelle ?



4 mm
4 cm
4 dm



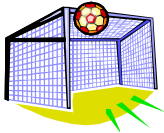
1 mm
1 cm
1 dm

la longueur d'une chaussure




25 mm
25 cm
25 dm

la largeur d'une cage de foot



70 cm
7 m
70 m

la hauteur d'une table



75 mm
75 cm
75 dm

la hauteur d'une porte



20 mm
200 mm
2 000 mm



2 mm
2 cm
2 dm

la longueur d'un lit



19 mm
19 cm
19 dm

Imagine la masse des objets suivants. Une seule mesure est possible, laquelle ?

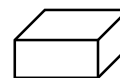


1 kg
10 kg
100 kg

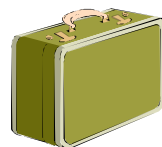


3 g
30 g
300 g

un morceau de sucre



5 g
50 g
500 g



2 kg
25 kg
250 kg

3 kg = g

50 g = mg

200 cg = g

20 kg = hg

2 t = kg

55 g = dg