


Recopie ce texte sur ton cahier

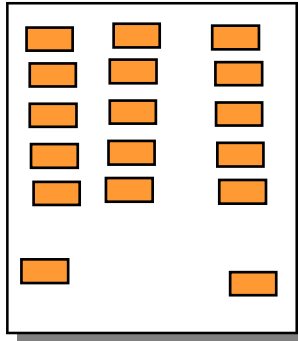
Dans la classe de Benoît, il y a 3 rangées de 5 tables et au fond de la classe, il y a 2 tables toutes seules.

Combien de tables y a-t-il dans la classe de Benoît ?

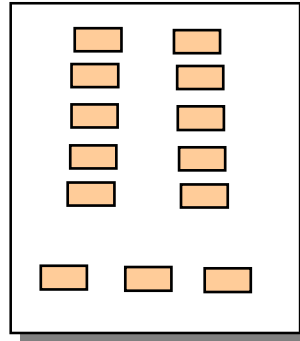
Pour faire ce problème, Félix, Bastien et Mathilde ont fait chacun un schéma. Un seul est juste. Entoure-le



Félix



Bastien



Mathilde

Sur ton cahier, recopie cette phrase en la complétant :

Le schéma juste est celui de

Toujours sur ton cahier, écris le nombre de tables avec une égalité

Sur ton cahier, recopie cette phrase en la complétant :

Le schéma de est faux parce que.....

Sur ton cahier, recopie cette phrase en la complétant :

Le schéma de est faux parce que.....