

**860**

**LE CUBE**

**B**

Je construis un cube de 5 cm d'arête. Quelle est l'aire totale de mon patron ? (On ne tient pas compte des languettes)

Aide math outil page 173

**860**

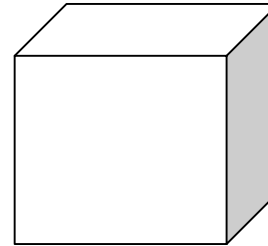
**LE CUBE**

**A**

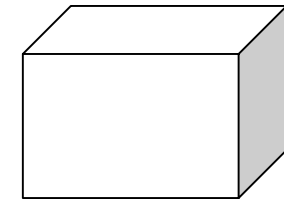
Complète.

**Le cube est formé de.....faces, .....sommets, ..... arêtes.**

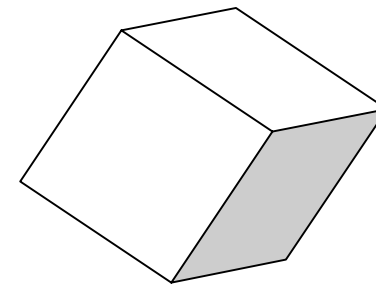
Laquelle de ces figures n'est pas un cube ?



A



B



C